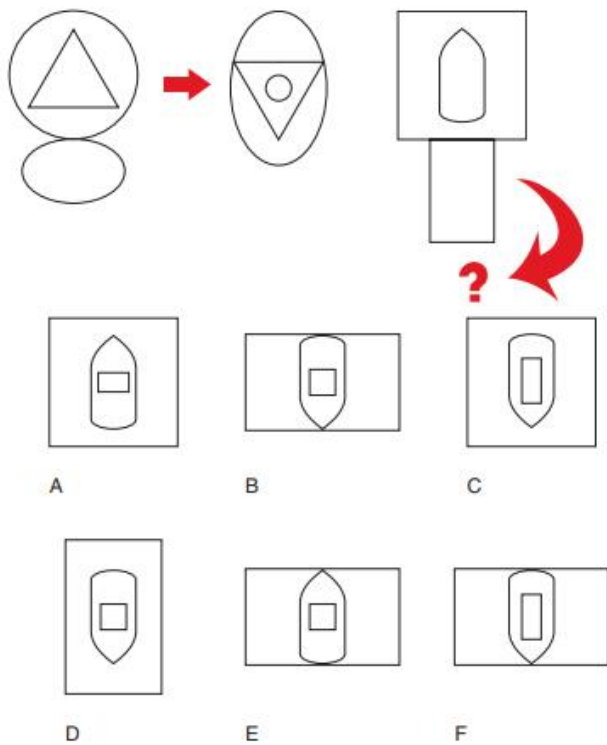


CONTOH SOAL PSIKOTES TES IQ DAN KUNCI JAWABAN

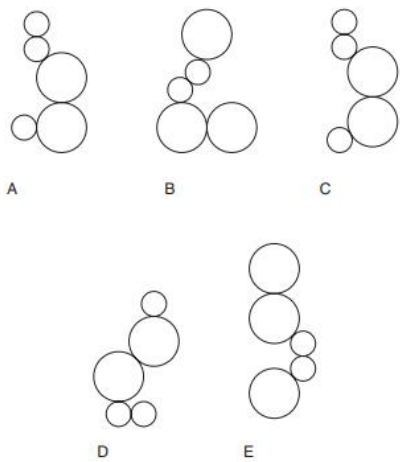
1. Pilih gambar yang tepat dibawah ini



Jawabannya adalah B

Perhatikan contoh soal, bulat telur diputar 90 derajat dan mengalami ukuran yang diposisikan di luar, segitiga diputar 90 derajat dan lingkaran berubah ukuran mengecil yang menempati posisi didalam segitiga. Pola yang sama terjadi untuk mencari jawaban pada soal.

2. Gambar yang harus dikeluarkan



Jawabannya adalah A

Bulatan C sama dengan D (bulat kecil jadi besar, bulan besar jadi kecil), sama halnya B sama dengan D, jadi yang dikeluarkan adalah A

3. Angka berapa yang tepat menggantikan kotak '?' (Susunan pada pilihan jawaban dibawah adalah dari 'atas ke bawah')

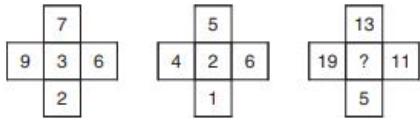
2	6	3	7	?
6	3	6	3	?
3	6	3	6	?
5	2	6	3	?

- a. 4 6 3 7
- b. 6 4 3 7
- c. 4 7 6 3
- d. 3 6 7 4

Jawabannya adalah a

Cara menjawab ini, di balikkan angka pada kolom sebelumnya lalu di + 1 hanya pada kolom paling atas. Susunan angka pada kolom 2, 3 dan 4 setelah dibalik tidak mengalami perubahan dan angka tetaplah sama.

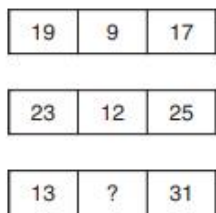
4. Angka yang tepat pada kotak tanda '?' adalah



Jawabannya adalah 6

$(19 + 11) \div 5 = 6; (13 + 5) \div 3 = 6$

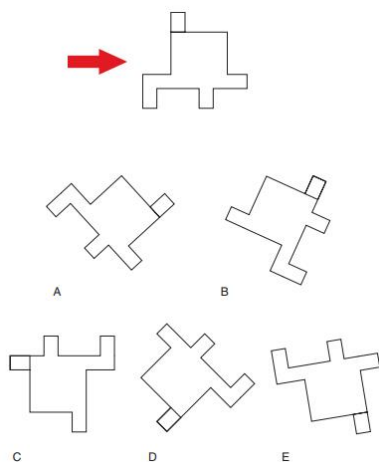
5. Isi angka yang tepat pada kotak tanda '?'



Jawabannya adalah 11

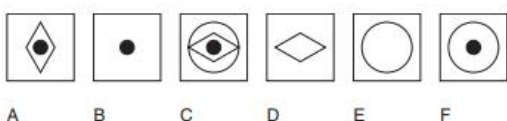
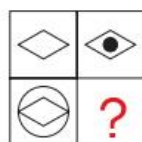
$(13 + 31) \div 4 = 11$

6. Mana gambar yang sama dibawah ini



Jawabannya adalah D

7. Mana kotak yang hilang?



Jawabannya adalah C

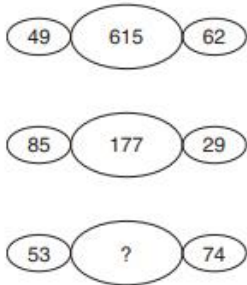
8. 100, 95, ?, 79, 68, ?, 40, 23

- a. 88, 55
- b. 90, 63
- c. 89, 54
- d. 90, 55
- e. 88, 63

Jawabannya adalah a. 88, 55

Setiap nomor di kurangi dengan 5, 7, 9, 11, 13, 15, 17

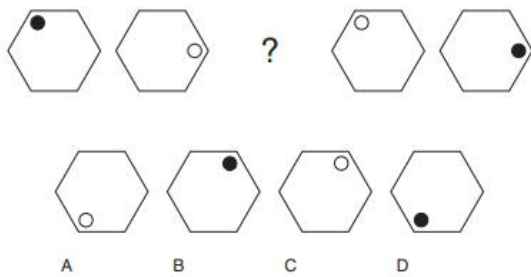
9. Angka yang tepat pada lingkaran tanda '?' adalah



Jawabannya adalah angka 910

$5 + 4 = 9$, $3 + 7 = 10$, penggabungan antara 9 dan 10 menjadi 910.

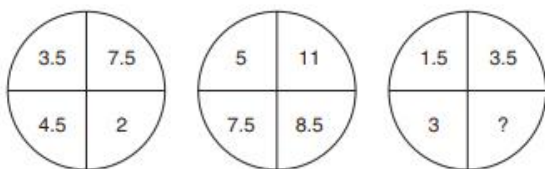
10. Gambar yang tepat menggantikan tanda '?' adalah



Jawabannya adalah D

Diputar searah jarum jam dan titik bergantian, hitam, putih, hitam, putih dan hitam.

11. Angka berapa yang tepat menggantikan tanda '?'



Jawabannya adalah 6.5

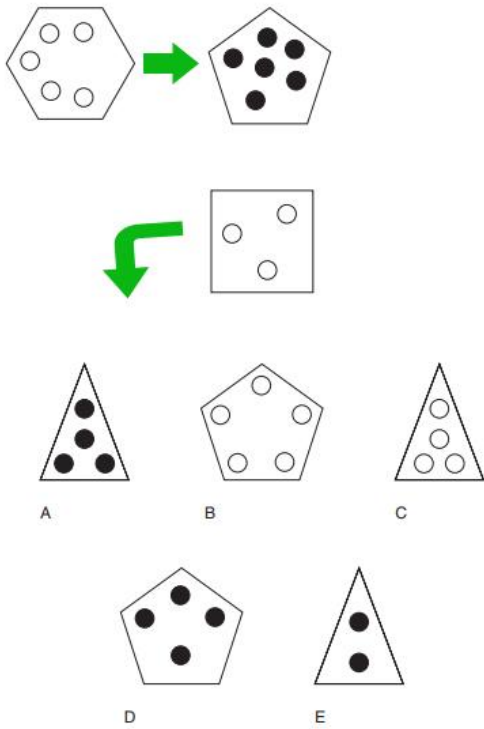
Penjelasan pada postingan tadi.

12. 0, 19, 38, 57, ?, 95

Jawabannya adalah 76.

Tambahkan angka 19 setiap kali.

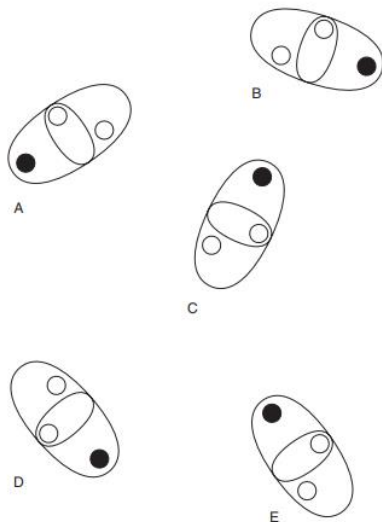
13. Pilih gambar yang tepat



Jawabannya adalah A

Sudut kotak berkurang satu dan titik bertambah satu dari putih ke hitam.

14. Mana gambar yang harus dikeluarkan



Jawabannya adalah B

Bila di rotasi yang lainnya adalah gambar yang sama, yang beda hanya gambar B

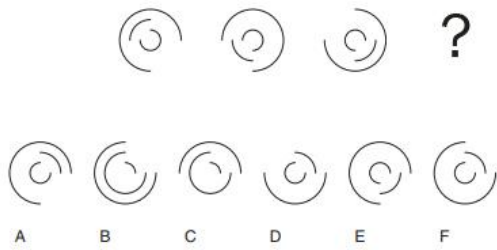
15. Angka yang tepat menggantikan tanda '?' adalah

1	3	7	13
4	6	10	16
9	11	15	21
16	18	22	?

Jawabannya adalah angka 28

Kolom ke kanan ditambah 2, 4, 6 sedangkan kolom kebawah ditambah 3, 5, 7.


16. Mana gambar selanjutnya



Jawabannya adalah F

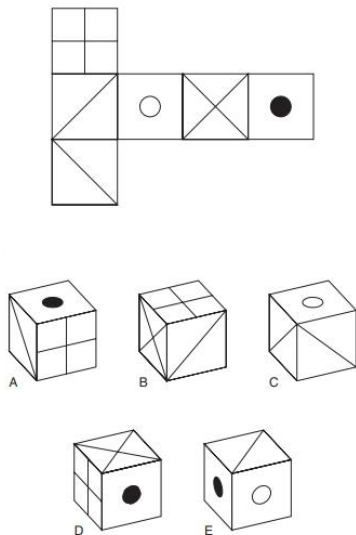
Putar sesuai pola pada contoh dan bentuk gambar tidak mengalami perubahan

17. Mana gambar yang hilang?



Jawabannya adalah E

18. Apabila gambar dilipat, maka hasilnya adalah



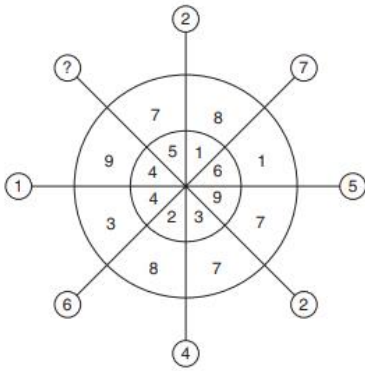
Jawabannya adalah A

19. 10, 21, 33, 46, 60, 75, ?

Jawabannya adalah 91

Tambahkan angka 11, 12, 13, 14, 15, 16

20. Angka yang tepat menggantikan pada tanda '?' adalah



Jawabannya adalah angka 5

$9 - 4 = 5, 7 - 5 = 2, 8 - 1 = 7, \text{ dst}$