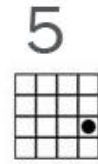
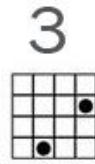
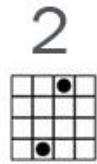
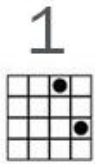
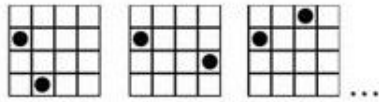
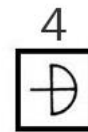
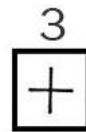

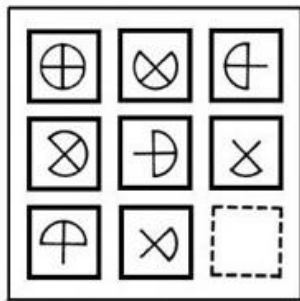


## SOAL PSIKOTES SPASIAL DAN KUNCI JAWABAN

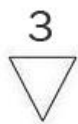
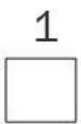
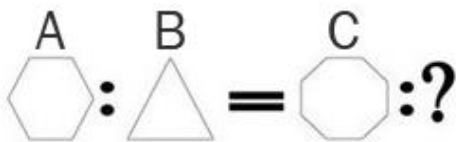
1. Lanjutkan gambar berikut:



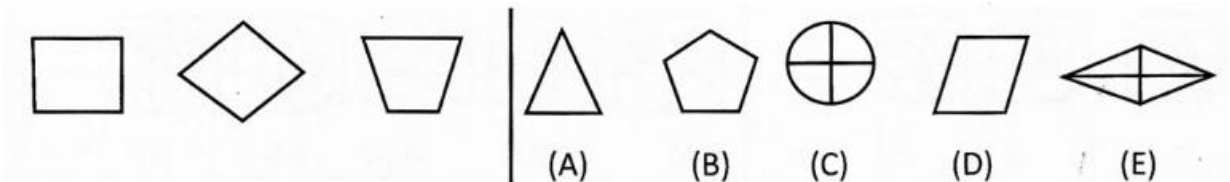
2. Pilih lanjutan dari gambar berikut:



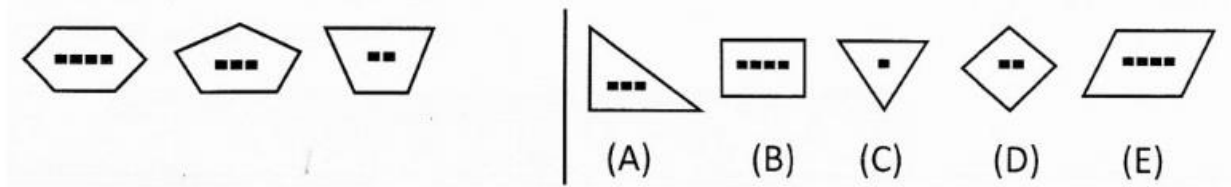
3. Gambar selanjutnya adalah ....



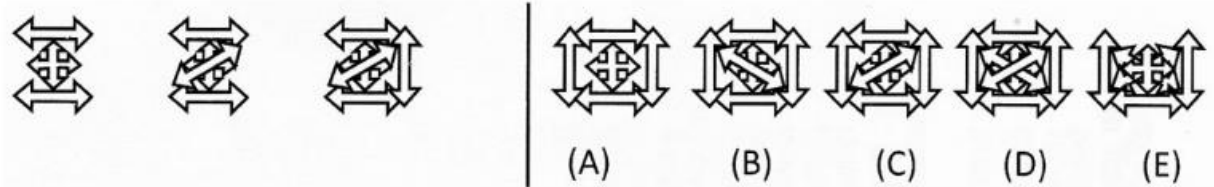
4. Gambar selanjutnya adalah ....



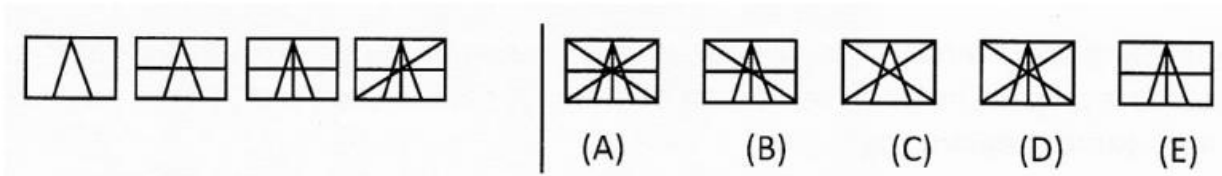
5. Gambar berikutnya adalah ....



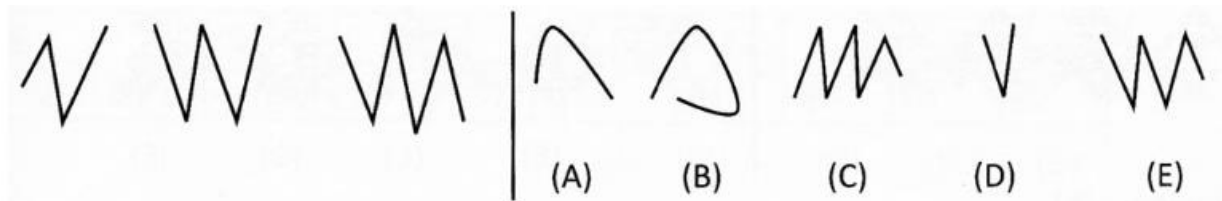
6. Gambar berikutnya adalah ....




7. Pilih gambar selanjutnya ....



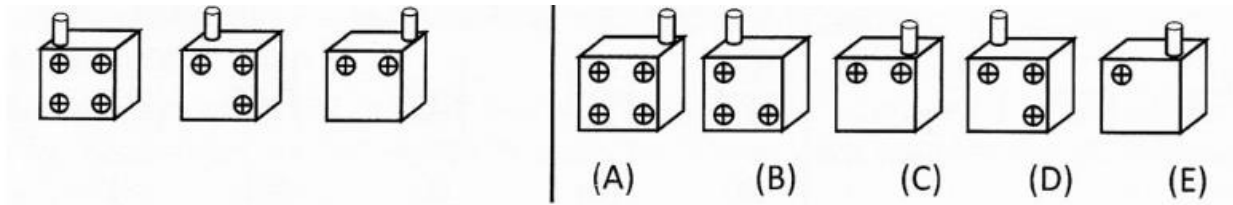
8. Selanjutnya adalah ....



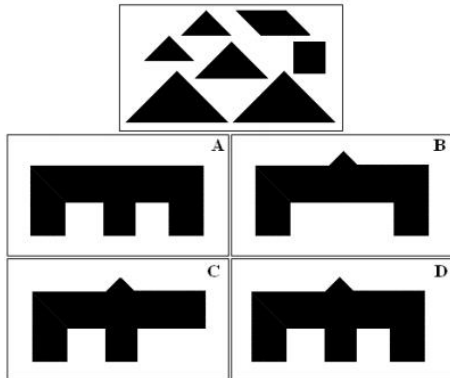
9. Gambar selanjutnya adalah ....



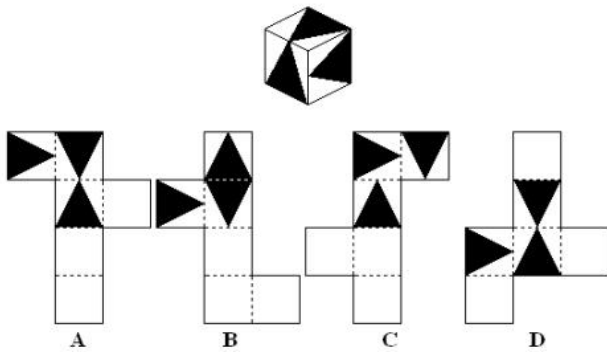
10. Gambar selanjutnya adalah ....



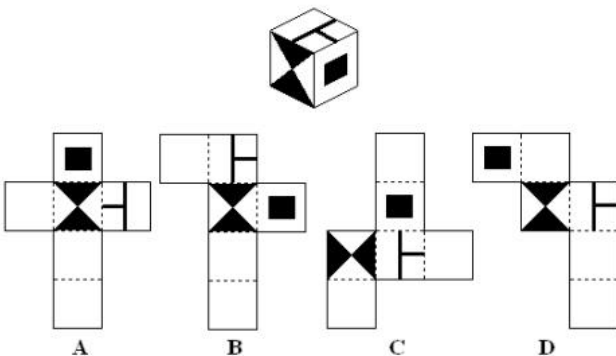
11. Hasil rangkaian dari *shape* dibawah adalah ....



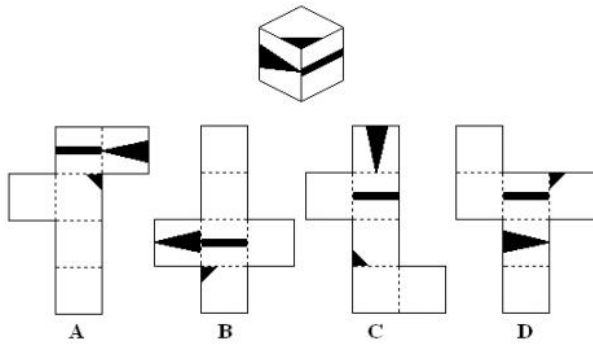
12. Lipatan yang akan membentuk kubus berikut adalah ....



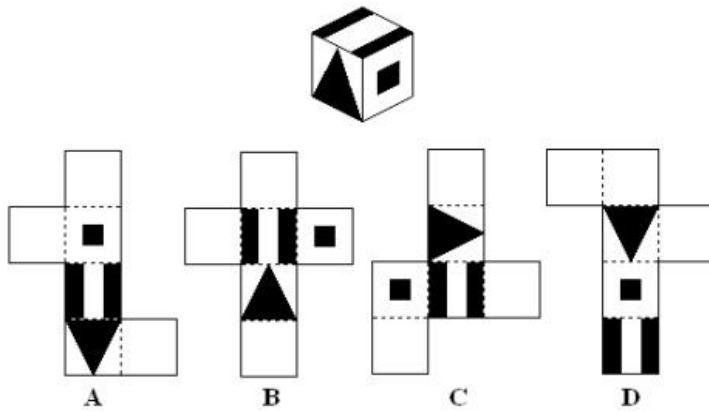
13. Lipatan yang akan membentuk kubus berikut adalah ....



14. Lipatan yang akan membentuk kubus berikut adalah . . . .



15. Lipatan yang akan membentuk kubus berikut adalah . . . .



**KUNCI JAWABAN**

<b>1</b>	<b>5</b>	<b>6</b>	<b>C</b>	<b>11</b>	<b>D</b>
<b>2</b>	<b>3</b>	<b>7</b>	<b>A</b>	<b>12</b>	<b>A</b>
<b>3</b>	<b>1</b>	<b>8</b>	<b>C</b>	<b>13</b>	<b>B</b>
<b>4</b>	<b>D</b>	<b>9</b>	<b>C</b>	<b>14</b>	<b>A</b>
<b>5</b>	<b>C</b>	<b>10</b>	<b>E</b>	<b>15</b>	<b>B</b>